

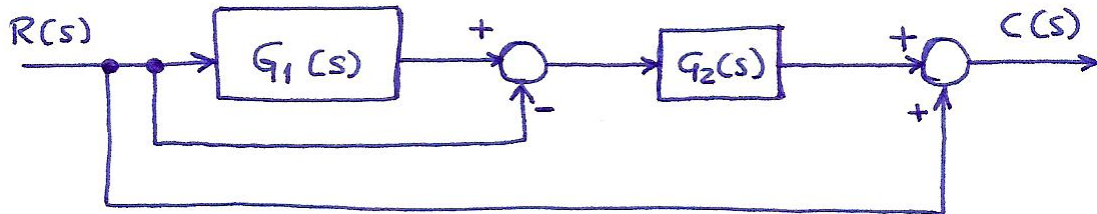
Tekno II - Azterketa:
KONTROL AUTOMATIKOA

Izena:

Kurtsoa:

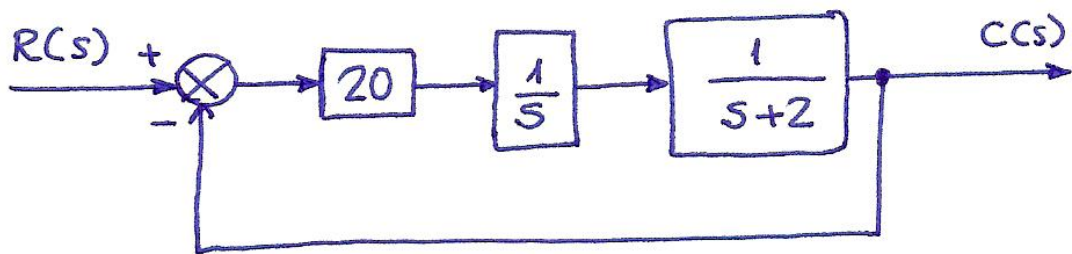
1 Kalkulatu transferentzia-funtzioa ondoko kasuan

PUNTUAZIOA: 1 PUNTU



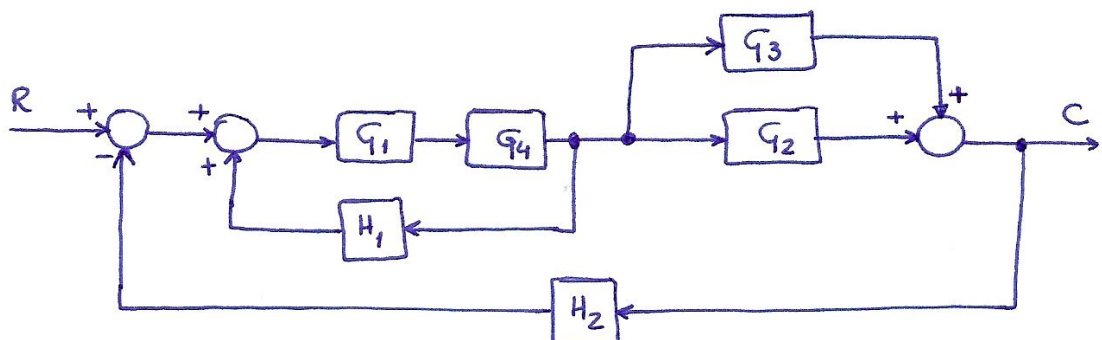
2 Kalkulatu transferentzia-funtzioa ondoko kasuan

PUNTUAZIOA: 1 PUNTU



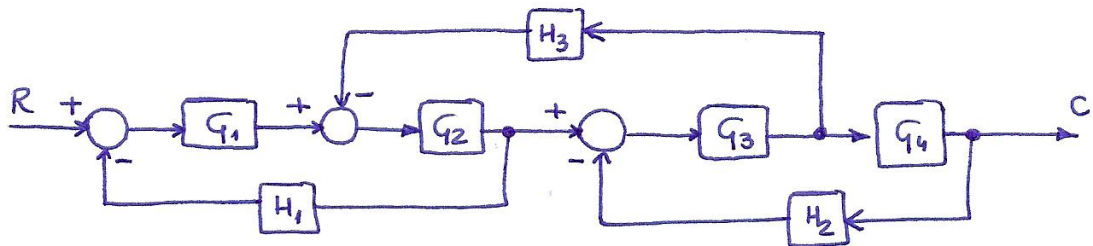
3 Kalkulatu transferentzia-funtzioa ondoko kasuan

PUNTUAZIOA: 2 PUNTU



4 Kalkulatu transferentzia-funtzioa ondoko kasuan

PUNTUAZIOA: 2 PUNTU



5 Irudiko eskemak labe baten tenperatura kontrolatzeko sistema adierazten du. Marraztu sistemaren bloke-diagrama eta kokatu eta adierazi bertan hurrengo elementuak

- sarrerako seinalea
- irteerako seinalea
- akats seinalea
- kontrol elementuak
- prozesu-elementuak
- berrelikatze-elementuak

PUNTUAZIOA: 2 PUNTU

