

Hess-en legea: ariketak

Ariketa #01

Hona hemen erreakzio hipotetikoak:



- Erabili Hess-en legea $A \rightarrow C$ erreakzioaren entalpia-aldaketa kalkulatzeko
- Entalpia-diagrama egin A, B eta C-
rentzat eta adierazi nola aplikatzen
den Hess-en legea.

Ariketa #02

Hona hemen erreakzio hipotetikoak :

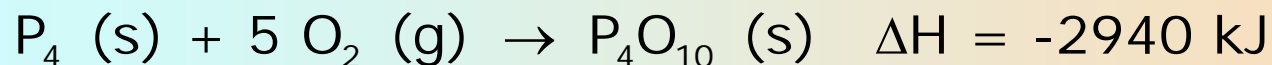


- Erabili Hess-en legea $Y \rightarrow Z$ erreakzioaren entalpia-aldaketa kalkulatzeko
- Entalpia-diagrama egin X, Y eta Z-
rentzat

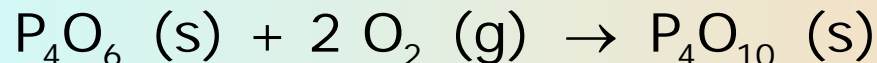
Hess-en legea: ariketak

Ariketa #03

Honako entalpia-aldaketa hauek emanik:

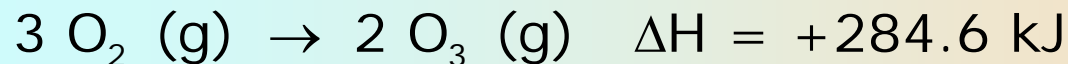
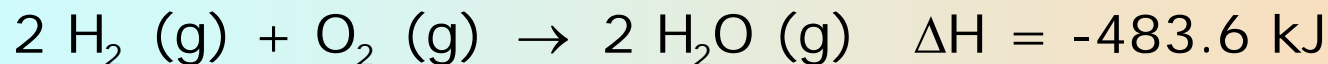


kalkulatu entalpia-aldaketa erreakzio honentzat

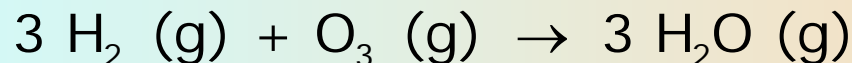


Ariketa #04

Honako entalpia-aldaketa hauek emanik :



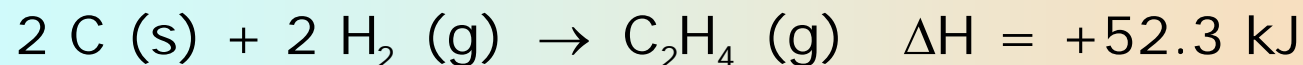
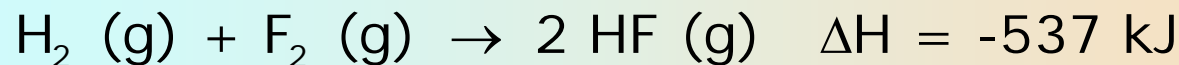
kalkulatu entalpia-aldaketa erreakzio honentzat



Hess-en legea: ariketak

Ariketa #05

Honako entalpia-aldaketa hauek emanik :



kalkulatu entalpia-aldaketa erreakzio honentzat

